

Prénom :

Date :

# Les nombres de 1 à 20

1 Complète la bande numérique.



2 Écris les nombres donnés.

11

3

14


16

7


18




3 Écris le nombre de points.




.....



.....




.....




.....


4 Dessine les points qui manquent.




18



12




9




15


5 Barre les points en trop.




14



8



11



17

Prénom :

Date :

# Les nombres de 1 à 20

1 Complète la bande numérique.

		3						9			12			
--	--	---	--	--	--	--	--	---	--	--	----	--	--	--


2 Écris les nombres dans les cases grises.

9									17			
---	--	--	--	--	--	--	--	--	----	--	--	--


3 Colorie les nombres identiques de la même couleur.

17	seize	13	vingt
quatorze	19	dix-sept	16
20	treize	15	quinze
dix-huit	14	dix-neuf	18


4 Dessine le bon nombre de billes.




19



12



16



20

Prénom :

Date :

# Les nombres de 1 à 20

1 Écris le nombre qui vient juste avant et le nombre qui vient juste après le nombre donné.

	8	
	12	
	15	
	19	
	17	
	4	
	20	

2 Entoure le plus petit des 2 nombres.

9 11

7 5

7 17

15 12

13 16

3 Entoure le plus grand des 2 nombres.

14 18

6 16

12 11

20 19

10 14

4 Range de plus petit au plus grand.

18

12

16

3

8

5