


# ACTIVITÉ H7 : LA CHUTE DE L'EMPIRE ROMAIN D'OCCIDENT (476 APRÈS J.C.)

H7



## PLACE À LA DÉCOUVERTE ET À L'ENTRAÎNEMENT

- ① **Découvrons** les principales invasions ainsi que le **DOCUMENT HISTOIRE 24 : Un peu plus d'informations sur l'invasion des Huns.** Lis aussi le **DOCUMENT HISTOIRE 25 : Carte récapitulative des différentes invasions et des nouveaux royaumes après la chute de l'Empire romain d'Occident** (pages 31 à 33 de ton manuel).

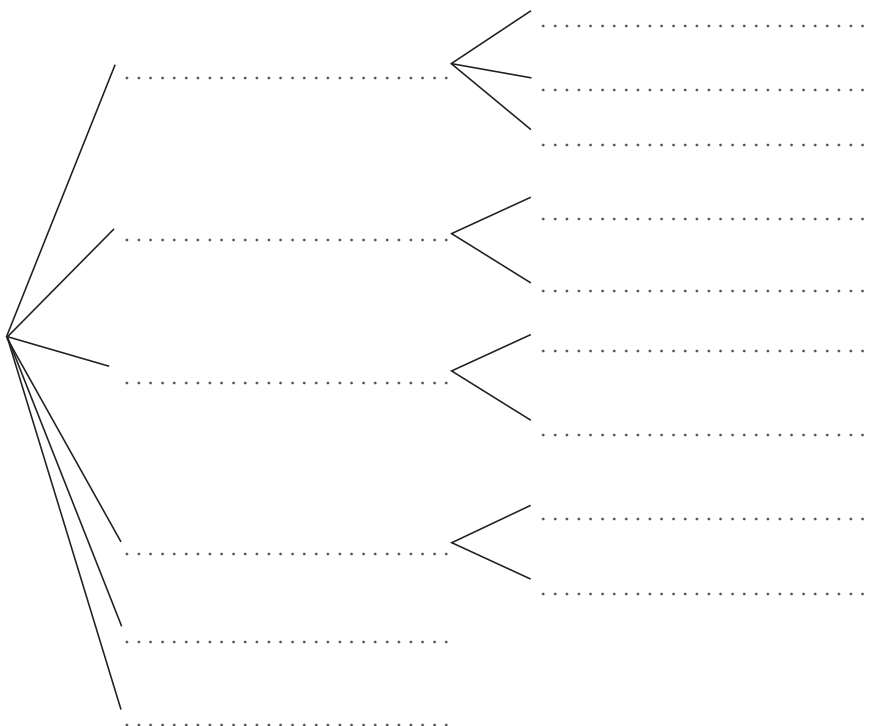


**Cite** les 3 différents groupes de peuples envahisseurs.

.....  
.....

Les peuples germaniques sont multiples. **Cite**-les ainsi que les groupes qui les composent.

**PEUPLES GERMANIQUES**



Prénom : ..... Nom : ..... Classe : .....

c) Cite le groupe qui compose le peuple d'Asie centrale :

.....

② Réponds aux questions en t'aidant du **DOCUMENT HISTOIRE 23 : Découvrons les principales invasions entre 378 et 420 après J.C.**, page 31 de ton manuel.

**I. Premières invasions barbares**

a) **Cite** la date des premières révoltes. ....

b) Par qui sont-elles menées ? .....

c) Pour quelles raisons ?  
.....  
.....

d) Quelques années plus tard, en 406, d'autres peuples interviennent. **Cite**-les.  
.....

e) Pour quelles raisons arrivent-ils jusqu'à l'Empire romain ?  
.....

f) Qu'est-ce qui va démarrer à partir de ce moment-là ?  
.....

g) Quels dégâts ces événements vont-ils causer à l'Empire romain d'Occident ?  
.....  
.....

h) Que provoquent les invasions des peuples germaniques ?  
.....

i) **Cite** les trois éléments qui font que l'économie romaine va mal.  
.....  
.....  
.....

j) **Explique** ces adjectifs donnés à un Empereur :

« fantoche » :  
.....

« usurpateur » :  
.....

**Prénom :** ..... **Nom :** ..... **Classe :** .....

③ Réponds aux questions en t'aidant du **DOCUMENTS HISTOIRE 24** :  
**Un peu plus d'information sur l'invasion des Huns**, page 31 de ton manuel.

- a) Quels sont les envahisseurs suivants ? .....
- b) En quelle année arrivent-ils ? .....
- c) Comment s'appelle leur chef ? .....
- d) Qui sont ses alliés ? .....
- e) Que cherchent-ils à faire ? .....
- f) Vont-ils y parvenir ? Pourquoi ?  
.....
- g) Comment s'appelle cette bataille ?  
.....
- h) Du coup, que décide de faire Attila ?  
.....
- i) Qui va l'en empêcher ? .....
- j) Comment va-t-il s'y prendre ?  
.....
- k) Qu'est-ce qu'un tribut ?  
.....

④ Réponds aux questions suivantes en t'aidant du **DOCUMENT HISTOIRE 26** :  
**La décadence de l'Empire romain d'Occident**, page 34 de ton manuel.

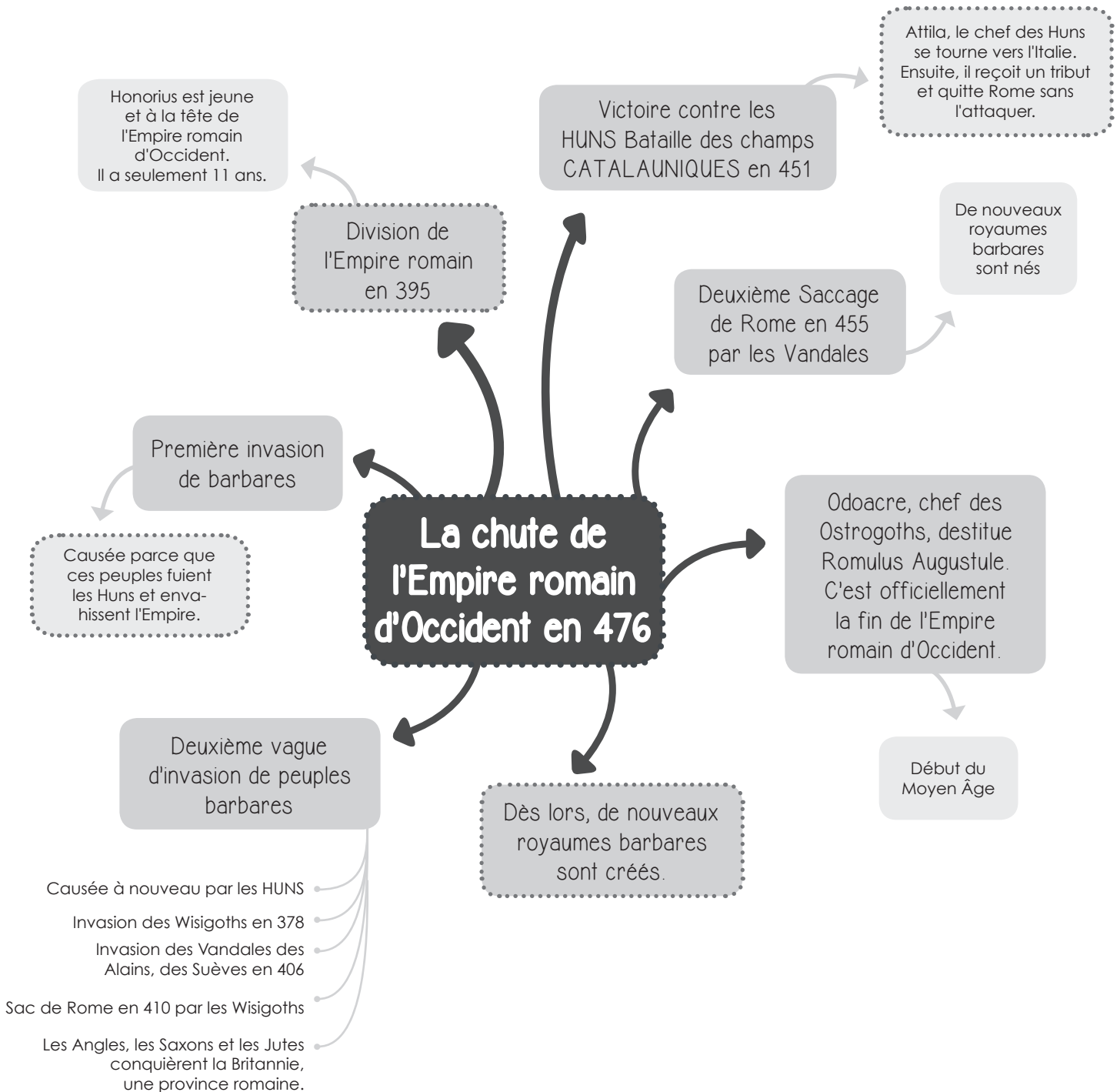
- a) Que se passe-t-il en 455 ?  
.....
- b) Que formeront les divers peuples barbares ?  
.....
- c) Quel évènement se produit en 476 ?  
.....
- d) Que provoque cet évènement majeur ?  
.....
- e) Pourquoi la date de la Chute de l'Empire romain d'Occident est-elle une date clé de l'Histoire ?  
.....

Prénom : ..... Nom : ..... Classe : .....

# ACTIVITÉ H7 : LA CHUTE DE L'EMPIRE ROMAIN D'OCCIDENT (476 APRÈS J.C.)

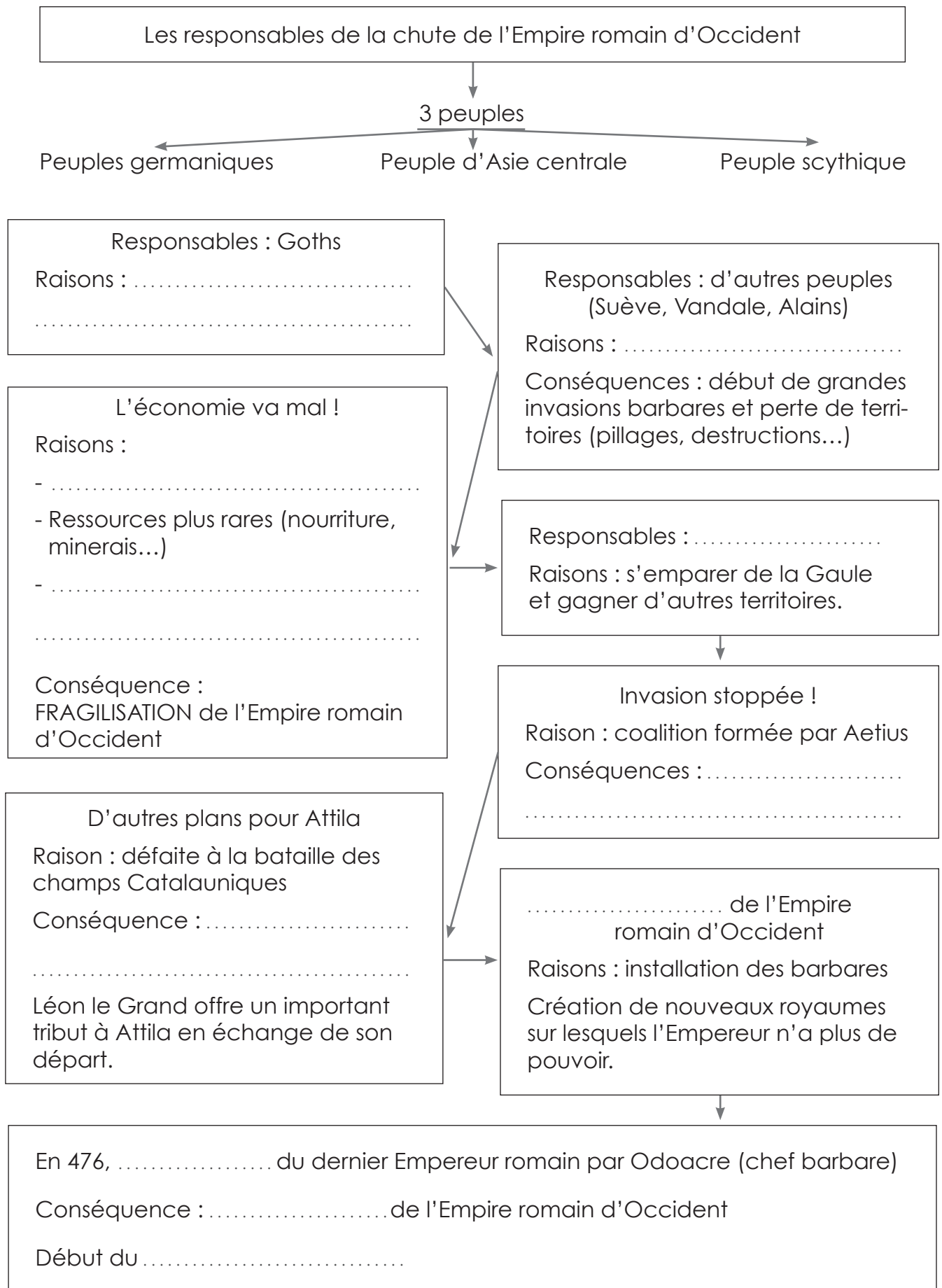


PLACE À LA SYNTHÈSE,  
Mémorise ce qui se trouve dans les pointillés



Prénom : ..... Nom : ..... Classe : .....

Une autre synthèse



**Prénom :** ..... **Nom :** ..... **Classe :** .....

# ACTIVITÉ H7 : LA CHUTE DE L'EMPIRE ROMAIN D'OCCIDENT (476 APRÈS J.C.)

H7



## PLACE À L'ÉVALUATION

Bon travail !

La chute de l'Empire romain d'Occident

1) Que se passe-t-il durant l'année 395 ?

.....  
.....  
.....

2) Quelle est la cause principale des invasions barbares ?

.....  
.....

3) **Donne** le nom du peuple qui a Attila comme chef.

.....  
.....

4) Après la chute de l'Empire romain d'Occident, que se passe-t-il ?

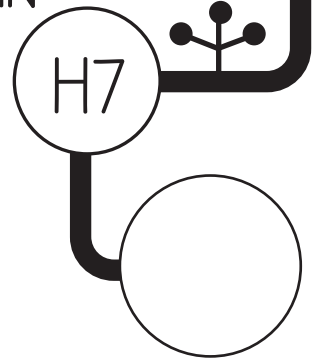
.....  
.....

5) Quelle est la date qui marque la fin de l'Empire romain d'Occident ?

.....  
.....

Prénom : ..... Nom : ..... Date : .....

# ACTIVITÉ H7 : LA CHUTE DE L'EMPIRE ROMAIN D'OCCIDENT (476 APRÈS J.C.)



## PLACE À L'ÉVALUATION À cahier ouvert

La chute de l'Empire romain d'Occident

1) Que signifie le terme romain *limes* employé par les Romains ?

.....  
.....  
.....

2) Pourquoi les Romains doivent-ils améliorer le *limes* durant le deuxième siècle ?

.....  
.....  
.....

3) **Replace** les différents événements dans l'ordre chronologique.  
**Note** le numéro correspondant dans la bulle.

- A → Rome est pillée et saccagée par les Vandales.
- B → Honorius devient empereur à 11 ans. Il gouverne l'Empire romain d'Occident.
- C → Odoacre destitue l'empereur Romulus Augustule.
- D → Rome est pillée et saccagée par les Wisigoths.

4) En 406, les Alains, les Vandales et les Suèves traversent un fleuve. Lequel ?

.....  
.....  
.....


5) Comment arrivent-ils à le traverser ?

.....  
.....  
.....

Prénom : ..... Nom : ..... Classe : .....

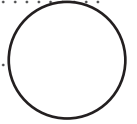
6) Quel est le point commun entre les années 410 et 455 ?

.....  
.....  
.....




7) En 451, Attila perd une bataille. Comment est-elle appelée ?

.....  
.....  
.....



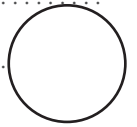
8) Pourquoi Attila repart-il de Rome sans combattre ?

.....  
.....  
.....



9) Donne le nom de deux peuples barbares germaniques.

.....  
.....  
.....



**Prénom :** ..... **Nom :** ..... **Classe :** .....